

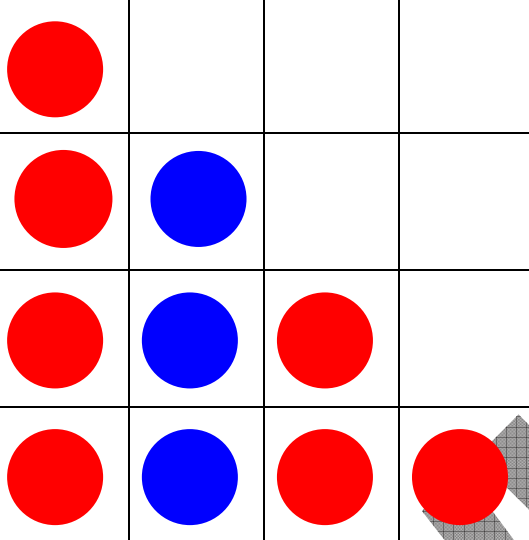
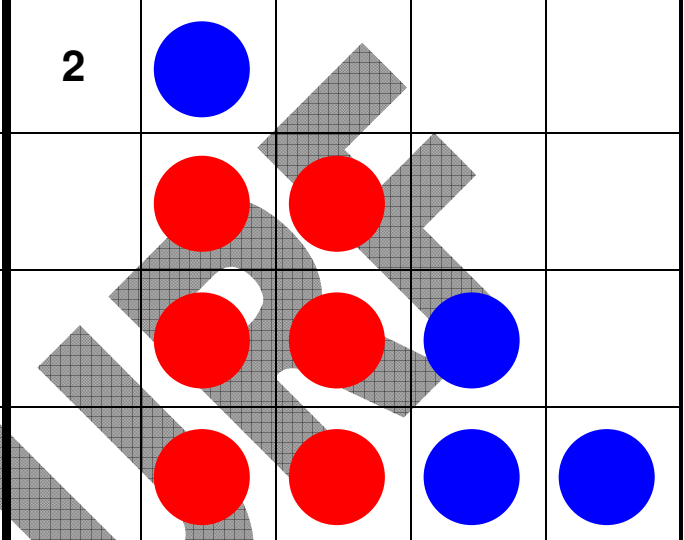
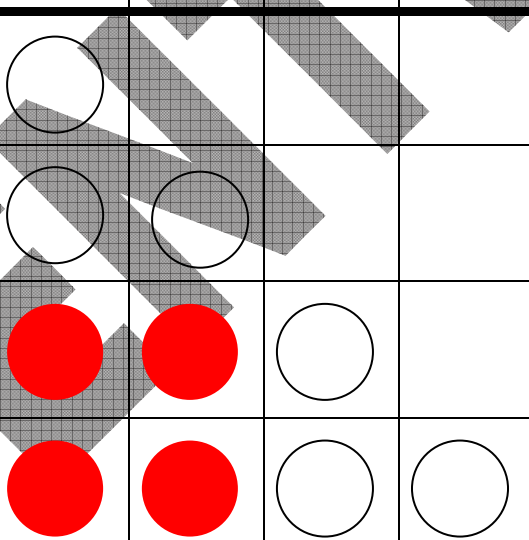
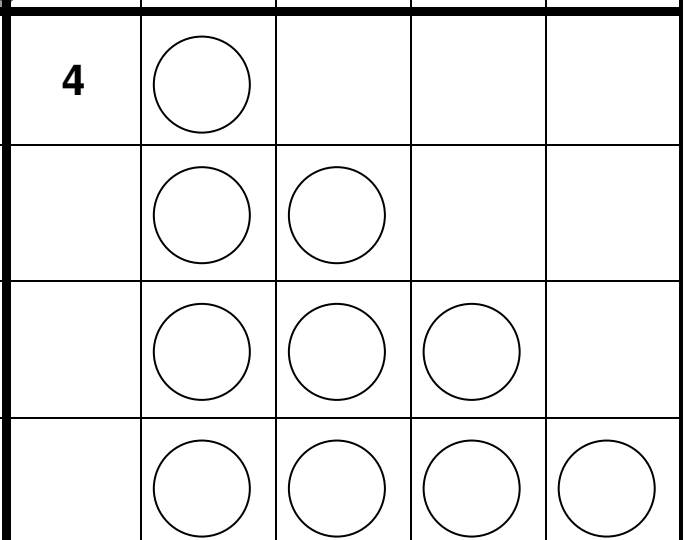
# Freie Punktmuster - Typ 20:

VI. 20. 3a

## Unterteile das Punktmuster in verschiedene Teilmengen (Diff.: angeleitet)

Es gibt verschiedene Möglichkeiten, das Punktmuster in Teilmengen zu unterteilen, deren Anzahl du mit dem Blitzblick bestimmen kannst.

1. Kreise in Feld (1) Teilmengen so ein, dass sie zur Plusaufgabe darunter passen.
2. Schreibe zur zweiten Zerlegung in Feld (2) selbst eine passende Plusaufgabe darunter!
3. Beende die dritte Zerlegung in Feld (3), indem du die restlichen Punkte blau anmalst und dann eine passende Plusaufgabe darunterschreibst.
4. **Lege mit Wendepfättchen noch eine andere, eigene zweifarbige Zerlegung. Male die Punkte in Feld (4) genauso in rot und blau an und schreibe darunter wieder eine passende Plusaufgabe.**

<div style="display: flex; justify-content: space-between; padding: 5px;"> <span style="font-size: 24px; font-weight: bold;">1</span>  </div> <div style="padding: 5px;"> <math>4 + 3 + 2 + 1</math> </div>	<div style="display: flex; justify-content: space-between; padding: 5px;"> <span style="font-size: 24px; font-weight: bold;">2</span>  </div> <div style="padding: 5px;"> <math>+ +</math> </div>
<div style="display: flex; justify-content: space-between; padding: 5px;"> <span style="font-size: 24px; font-weight: bold;">3</span>  </div> <div style="padding: 5px;"> <math>+ +</math> </div>	<div style="display: flex; justify-content: space-between; padding: 5px;"> <span style="font-size: 24px; font-weight: bold;">4</span>  </div>